



cuaderno de
matemáticas



Sumas y restas sin llevadas

cuaderno de matemáticas 17

proyecto educativo faro



Este libro está impreso sobre papel reciclable, ecológico, libre de cloro, y contribuye al desarrollo sostenible de los bosques.

Ilustración

Gustavo Otero

Edición

Equipo Dylar

Maquetación

copion

Impresión

Brosmac, S.L.

ISBN cuaderno: 978-84-89655-70-6

Depósito Legal:

© Proyecto Educativo Faro

© **DYLAR Ediciones**

www.dylar.es
E-mail: dylar@dylar.es
Tel.: 902 44 44 13

1 Ana ve Llegan



$4+3=$ Ahora ve pájaros.

2 Tengo

$$\begin{array}{r} 5 \\ +4 \\ \hline \end{array}$$



cromos.

Entre las dos manos tengo cromos.

3 Mi madre tiene Pone




¿Cuántos plátanos hay en el frutero?

$\begin{array}{r} 7 \\ +3 \\ \hline \end{array}$
 $7+3=$ En el frutero hay plátanos.



4 ¿Cuántas casillas adelantaré?

Operación:



Adelantaré casillas.

5 Tenemos dos huerteras, una con 12 huevos y otra con siete. ¿Cuántos huevos hay en total?

Operación:



Hay huevos.

6 Para adornar una jardinera hemos comprado 17 geranios y once rosales. ¿Cuántas plantas tenemos?

Operación:

..... plantas.

7 La cometa de Enrique tiene un hilo de trece metros. Le añade 14 metros. ¿Cuánto mide ahora?

Operación:



Mide




✿ En un jardín hay tres bancos rojos y ocho blancos. ¿Cuántos bancos blancos hay?

Operación:

Hay.....

9 Ponen 5 manzanas más y entonces pesa un kilo. ¿Cuántas manzanas entran en un kilo?


Operación:



Entran manzanas.

10 ¿Cuántos animales hay?

Operación:



..... animales.

11 A una excursión van 11 niños y 14 niñas. ¿Qué hay más?

niños

niñas




¿Cuántas plazas debe tener el autobús para que se sienten todos?

 11 25 14

12 Ana ve



Se van




$$7 - 3 = \square$$

Ahora sólo ve pájaros.

13 Zengo



Pierdo 4 cromos



$$\begin{array}{r} 9 \\ -4 \\ \hline \square \end{array}$$

Me quedan cromos.

14 Mi madre tiene



Me como 2.



$$\begin{array}{r} 8 \\ -2 \\ \hline \square \end{array}$$

$$8 - 2 = \square$$

En el frutero he dejado plátanos.



15 De una cuerda de 9 metros corto tres. ¿Cuántos me quedan?

Operación:

Respuesta:

16 De un cuento que tiene 18 hojas leo 12. ¿Cuántas me faltan para acabarlo?

Operación:



Me faltan

.....

17 ¿Cuántas tenía y cuántas le quedan?

Operación:



Respuesta:



.....

18 Un viajante sale con 25 litros de gasolina y regresa con 13. ¿Cuántos ha gastado en el viaje?


Operación:

Respuesta:

.....



Rastrillo del abuelo



19 Miguel compra un oso y un balón. ¿Cuánto gasta?

Gasta euros.

20 Antonio compra un oso y un avión. ¿Cuánto paga?

..... euros.

21 ¿Quién de los dos ha gastado más?

.....

¿Cuánto más?

22 María compra una muñeca y otro juguete. Paga 39 euros. ¿Cuál es el otro?

..... euros.

Es:

