

M

matemáticas
básicas

1 2 3 4 5

Cálculo de sumas con llevadas. Problemas de sumas con llevadas y diferencias sin llevadas

matemáticas **3**
b á s i c a s
proyecto educativo faro

Ilustración

Antonio Perera

Impresión

Brosmac, S.L.

ISBN cuaderno: 978-84-92795-26-0

Depósito Legal:

© Proyecto Educativo Faro

© **DYLAR Ediciones**

www.dylar.es
E-mail: dylar@dylar.es
Tel.: 902 44 44 13

1 Rodea.

- El vehículo que está encima del puente.
- El barco que está debajo.
- El pescador que está debajo y a la derecha del puente.



2 Escribe con letras o con cifras.

36 _____ ochenta y uno

cuarenta y tres 87 _____

68 _____ noventa y dos


3 Calcula.

8	7	9	5	6	8	9
+ 4	+ 6	+ 3	+ 5	+ 9	+ 7	+ 8
<input type="text"/>	<input type="text"/>	<input type="text"/>	<input type="text"/>	<input type="text"/>	<input type="text"/>	<input type="text"/>



4 Cuenta.

• De dos en dos.



• De tres en tres.



5 Calcula.

29	16	27	38	26	37	39
+ 11	+ 25	+ 15	+ 20	+ 17	+ 14	+ 12
<input type="text"/>	<input type="text"/>	<input type="text"/>	<input type="text"/>	<input type="text"/>	<input type="text"/>	<input type="text"/>

6 Calcula mentalmente.

+ 6 =

+ +

14 + =

= =

+ 19 =

+ +

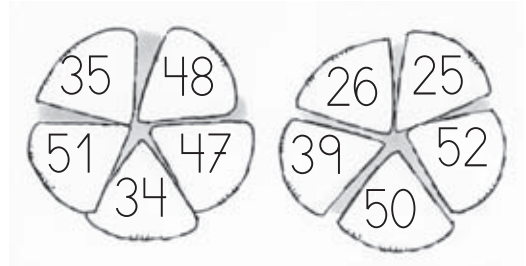
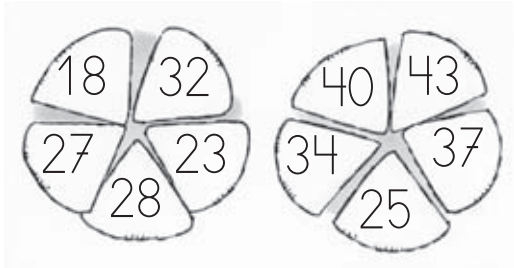
+ =

= =



7 Colorea en cada figura.

- De rojo el número mayor.
- De verde el número menor.



8 Miguel tiene ahorrado 46 euros y Marta 18 más que Miguel. ¿Cuántos euros **tiene** Marta?

Datos

Cálculo

Marta tiene euros.

9 Calcula.


23	12	27	30	29	34	13
+ 35	+ 49	+ 36	+ 46	+ 24	+ 9	+ 22
<input type="text"/>	<input type="text"/>	<input type="text"/>	<input type="text"/>	<input type="text"/>	<input type="text"/>	<input type="text"/>
15	6	18	7	48	28	33
+ 8	+ 50	+ 47	+ 38	+ 14	+ 33	+ 18
<input type="text"/>	<input type="text"/>	<input type="text"/>	<input type="text"/>	<input type="text"/>	<input type="text"/>	<input type="text"/>



10 Calcula.

$16 + \square = 21$	$\square + 17 = 23$	$16 + 17 = \square$
$\square + 15 = 24$	$18 + 15 = \square$	$12 + \square = 30$
$19 + 13 = \square$	$5 + \square = 17$	$\square + 15 = 32$
$11 + \square = 30$	$\square + 23 = 31$	$26 + 17 = \square$

11 Calcula.



44	13	58
$+ 37$	$+ 56$	$+ 32$
\square	\square	\square
48	26	59
$+ 22$	$+ 44$	$+ 21$
\square	\square	\square
57	38	19
$+ 17$	$+ 54$	$+ 45$
\square	\square	\square
53	43	55
$+ 29$	$+ 39$	$+ 18$
\square	\square	\square

12 Completa la tabla.

	D	U
	6	0
	7	9
cuarenta y ocho		
ochenta y cinco		
setenta y seis		
	9	7



13 Rodea.

- De rojo el niño y la niña más altos.
- De verde el niño y la niña más bajos.



14 Si he llenado la bañera con 49 litros de agua fría y 43 de agua caliente, ¿cuántos litros de agua caben en la bañera?

Datos

Cálculo

Caben litros de agua.

15 Calcula.

51	9	25
+ 31	+ 42	+ 50
<input type="text"/>	<input type="text"/>	<input type="text"/>
27	35	41
+ 46	+ 53	+ 39
<input type="text"/>	<input type="text"/>	<input type="text"/>

16 Rodea la respuesta correcta.

$15 + 25$ → 30
 $15 + 25$ → 40
 $23 + 7$ → 20
 $23 + 7$ → 30




17 Cuenta.

- De cuatro en cuatro.
+4



- De cinco en cinco.
+5



18 Ordena de mayor a menor.

21 71 12

36 60 6 63

> >

> > >

19 Calcula.

58	6	37	13	26	25	28
+ 40	+ 17	+ 54	+ 48	+ 56	+ 47	+ 52
<input type="text"/>	<input type="text"/>	<input type="text"/>	<input type="text"/>	<input type="text"/>	<input type="text"/>	<input type="text"/>
59	24	66	33	7	36	45
+ 12	+ 57	+ 20	+ 49	+ 62	+ 55	+ 44
<input type="text"/>	<input type="text"/>	<input type="text"/>	<input type="text"/>	<input type="text"/>	<input type="text"/>	<input type="text"/>
16	39	65	57	64	41	47
+ 46	+ 51	+ 11	+ 10	+ 10	+ 29	+ 23
<input type="text"/>	<input type="text"/>	<input type="text"/>	<input type="text"/>	<input type="text"/>	<input type="text"/>	<input type="text"/>

