



cuaderno de
matemáticas



Sumas y restas con llevadas

cuaderno de matemáticas 19

proyecto educativo faro



Este libro está impreso sobre papel reciclable, ecológico, libre de cloro, y contribuye al desarrollo sostenible de los bosques.

Ilustración

Gustavo Otero

Edición

Equipo Dylar

Maquetación

copion

Impresión

Brosmac, S.L.

ISBN cuaderno: 978-84-89655-72-0

Depósito Legal:

© Proyecto Educativo Faro

© **DYLAR Ediciones**

www.dylar.es

E-mail: dylar@dylar.es

Tel.: 902 44 44 13

- 1 En la cuba 1 hay el doble de vino que en la 2.
 En la cuba 2 hay 40 litros.
 En la cuba 3 hay la mitad de vino que en la 2.




En la  hay litros.

En la  hay litros.

En total hay entre las tres cubas litros.


- 2 ¿Cuánto pesará el niño más alto?



- 3 Completa el texto y resuelve:
 En una carrera de relevos María recorre metros, Andrés y Enrique metros.
 ¿ ?

Operación.
 $50 + 68 + 32 =$

Entre los tres recorren metros.



- 4 En mi clase somos 25 alumnos. Cinco se ponen enfermos y 7 se van de vacaciones. ¿Cuántos estamos hoy en clase?

Operación.

..... alumnos.

- 5 Una coneja tuvo ayer 11 conejitos y el mes pasado tuvo 4 conejitos menos. ¿Cuántos han nacido entre los dos meses?


Operaciones.



Le han nacido: conejitos



Operaciones.



¿Cuántos km llevan escapados entre los dos?
..... km

7 A la primera sesión del circo asisten 96 personas y a la 2ª sesión treinta y cinco más que antes.

a) ¿Cuántas van a la segunda sesión?

61 96 131

c) ¿Cuántas van en total?

227 96 61

b) ¿Cuántas más van a la 2ª que a la 1ª?

96 35 61

d) ¿Cuántas menos van a la 1ª sesión que a la 2ª?

35 61 96

8 Ayer leí 7 páginas de un libro y hoy he leído 12 páginas. Si ayer empecé en la página 46, ¿en qué página he acabado hoy?

Operación.



Respuesta

9 En un balcón hay 34 plantas. Una helada estropea 18. ¿Cuántas plantas quedan en el balcón?

Operación.



Respuesta



10 El mes de marzo tiene 31 días y el mes de abril uno menos. ¿Cuántos días tienen entre los dos meses?


Operación.

Respuesta

11 ¿Cuántos días tiene enero?

11 ¿Cuánto dinero tengo en la hucha?

Operación.



..... euros.

12 Un puzzle grande tiene 146 piezas y uno pequeño 85 piezas menos. ¿Cuántas piezas tienen entre los dos?


Operaciones.



Respuesta

13 En un embalse hay 30 truchas. Un pescador coge diecisiete. ¿Cuántas truchas puede comerse?

Operación.



Se puede comer

Encuentra los resultados correctos

14 En una librería hay 3 estanterías. La 1ª tiene 47 libros, la segunda 68 y la 3ª el doble que la 1ª.

a) ¿Cuántos libros hay en la 3ª estantería?

Operación.




b) ¿Cuántos menos hay en la 2ª que en la 3ª?

Operación.



c) ¿Cuántos más hay en la 3ª que en la 1ª?

Operación.



d) ¿Cuántos libros hay en total?

Operación.



Tacha los resultados incorrectos.

26 libros 21 libros 47 libros 94 libros 209 libros 218 libros

15 ¿Cuál es la diferencia entre los dos resultados que no has utilizado en el ejercicio anterior?

Operación.



Respuesta



16 Para embaldosar una casa compramos 123 baldosas rojas y 25 azules más que rojas. ¿Cuántas hemos adquirido?

Operaciones.

..... baldosas.

17 Aitor ha comido 23 caramelos. Tenía una caja con el doble. ¿Cuántos le quedan?

Operación.



..... caramelos.


18 Completa el texto y resuelve.

Julián tiene en su colección..... sellos de España,
..... de Portugal y de Japón.

¿.....?

Operación.

$$122+89+16=$$



..... sellos.

19 En el monte cortan 25 pinos y diecisiete abetos. Aún quedan 85 árboles. ¿Cuántos árboles pueden talar todavía?

Operación.



Respuesta